



23 Nisan 1920 tarihinde Türkiye Büyük Millet Meclisi açıldı. 23 Nisan egemenliğin millete ait olduğunun kabul edildiği özel bir gündür. Atatürk bu önemli günü çocuklara bayram olarak armağan etti. Her yıl 23 Nisan Ulusal Egemenlik ve Çocuk Bayramı büyük bir coşkuyla kutlanır. Bu bayram çocuklara armağan edilen tek bayramdır. Bugün okullar süslenir, törenler yapılır, yurdumuza diğer ülkelerin çocukları gelir.

Nurgül DOĞAN
AYDIN

Aşağıdaki soruları yukarıdaki metne göre yanıtlayınız.

1) 23 Nisan 1920'de ne olmuştur?

2) Atatürk 23 Nisan'ı kime armağan etti?

3) 23 Nisan'da neler yapılır?

4) Yukarıdaki metnin konusu nedir?

5) Metne uygun bir başlık yazınız.

5) "Cuma cumartesi günlerini çok severim."

Cümlesinde boş bırakılan yere aşağıdaki sözcüklerden hangisi yazılabilir?

A) fakat

B) ve

C) çünkü



6) "Salı günü halı sahaya maça gitti." cümlesinde aşağıdaki sorulardan hangisinin yanıtı yoktur?

A) Nereye?

B) Ne zaman?

C) Niçin?

Aşağıdaki cümlelerden doğru olanların başına D, yanlış olanların başına ise Y harfini yazınız.

Neşe ve masa kelimelerinin hece sayısı aynıdır.

baş-ar-ı kelimesi hecelerine yanlış ayrılmıştır.

Acemi kelimesinin zıt anlamı toy kelimesidir.

7) Yukarıdaki etkinlik tamamlandığında hangi sonuca ulaşılır?

A) D

B) D

C) D

D

Y

Y

Y

Y

D

8) "Bu akşam hava çok sıcaktı." cümlesindeki altı çizili sözcüklerin karşıt anlamlıları aşağıdakilerden hangisidir?

A) Gece-soğuk

B) Sabah-soğuk

C) Aydınlık-soğuk

9) Aşağıdaki sözcüklerden yazımı yanlış olanları işaretleyelim.

Yalnis

Herkez

Maydanoz

Grup

10) Aşağıdaki sözcüklerin zıt anlamlısını yazınız.

Cimri:

Erken:

Üvey:

Yenilgi:

Sert:

Açık:

11) Aşağıdaki kelimelerden eş sesli olanları işaretleyiniz.

Yaz

Düş

Gövde

Ben

Bir Bilmece:

Bir sapı var, yüz topu var.

Cevap:

Hayat Bilgisi

1) Aşağıdaki cümleler doğru ise D, yanlış ise Y yazınız.

- ☐ Haziran ayında tükettiğimiz sebzelerden birisi de pırasadır.
- ☐ Dişlerimizi fırçalarken musluğu açık bırakmak uygun bir davranıştır.
- ☐ Farklı yaşayış ve kültürlerle karşı hoşgörü ile yaklaşmalıyız.
- ☐ Gideceğimiz yere çabuk gitmek için karşıdan karşıya koşarak geçmeliyiz.
- ☐ Evde kazaların en çok meydana geldiği yer mutfaktır.
- ☐ Yönetim şeklimizin cumhuriyet olduğu tarih 23 Nisan 1920'dir.

2) Aşağıdakilerden hangisi cumhuriyet yönetiminin özelliklerindendir?

- A) Yöneticilik akrabalar arasında olur.
- B) Halk kendini yönetecek kişileri seçer.
- C) Padişah milleti yönetir.

3) Aşağıdakilerden hangisi doğal güzelliklerimizden birisidir?

- A) Topkapı Sarayı
- B) Mevlana Müzesi
- C) Düden Şelalesi

4) Aşağıdakilerden hangisi seçimle göreve gelir?

- A) Vali
- B) Belediye başkanı
- C) Kaymakam

5) Nemrut Dağı aşağıdaki illerden hangisinde bulunur? Nemrut Dağı

- A) Şanlıurfa
- B) Trabzon
- C) Adıyaman



6) Kim yönetir?

Köy:

İlçe:

İl:

7) Anıtkabir hangi ilimizdedir?

- A) İstanbul
- B) Ankara
- C) İzmir



7) Aşağıdakilerden hangisi Atatürk'ün kişilik özelliklerinden birisi değildir?

- A) Hoşgörülüydü.
- B) İleri görüşlüydü.
- C) Kararsızdı.

8) Aşağıdakilerden hangisi bütün çocuklar için ortaktır?

- A) Yemek türleri
- B) Giyinme şekli
- C) Oynama ihtiyacı

9) Savaş nedeniyle ülkemize göç eden insanlara nasıl davranmalıyız?



Arda

Empati kurmalıyız.



Kemal

Duyarlı davranmalıyız.



Zeycan

Bencil davranmalıyız.

Yukarıdaki öğrencilerin verdikleri bilgiler doğru ise D yanlış ise Y yazın.

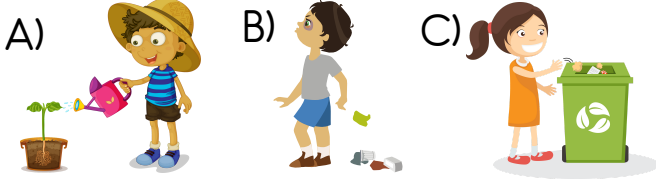
Arda →

Kemal →

Zeycan →

Fen Bilimleri

1) Hangi görseldeki çocuğun davranışı çevreye zarar verir?



2) Hava Yoktur Vardır güneşe insanların

Aşağıdaki boşlukları uygun sözcüklerle tamamlayınız.

Hayvanların yaşamını sürdürmeleri için suya gereksinimi

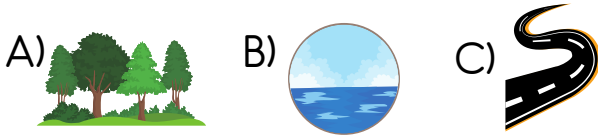
Bitkilerin yaşamını sürdürebilmesi için su,.....,toprak veihtiyacı vardır.

Doğal çevre genelliklefaaliyetleri sonucunda zarar görür.

3) Aşağıdaki bilgilerden hangisi yanlıştır?

- A) Şehir kurmak için kesilen ağaçlar doğal çevreye zarar verir.
- B) Atık kağıtları çeşitli işlemlerden geçirip yeniden kullanmak tehlikelidir.
- C) Ağaç ve fidan dikmek doğayı korumamızı sağlar.

4) Aşağıdakilerden hangisi yapay çevreye örnektir?



5) Aşağıdakilerden hangisi doğrudur?

- A) Ağaçlar canlıların oksijen ihtiyacını karşılar.
- B) Ağaçlar kağıdın ham maddesidir.
- C) Ağaçların kesilmesini önlemek için kitap okumamalıyız.

6) Aşağıdaki boşlukları uygun örneklerle tamamlayınız.

Gaz madde:	Sıvı madde:	Katı madde:
1.	1.	1.
2.	2.	2.
3.	3.	3.

7) Aşağıdaki varlıkları uygun bölüme işaretleyiniz.

Varlık Adı	Canlı	Cansız
Tabak		
Menekşe çiçeği		
Hava		

8) Aşağıdaki cümlelerden doğru olanların başına D,yanlış olanların başına Y yazınız.



- ☐ Bir varlık uçuyorsa canlıdır.
- ☐ Gözleri kapalı olan bir insan etrafındaki sesleri duymaz.
- ☐ Yıldız,şimşek,güneş doğal ışık kaynaklarına örnektir.
- ☐ Ses,dalgalar halinde her yöne yayılır.
- ☐ Her sesin bir kaynağı yoktur.
- ☐ Şiddeti çok büyük olan sesler işitme kaybına neden olabilir.
- ☐ Rüzgarın oluşması havanın varlığını kanıtlar.
- ☐ Dünya'nın şekli ile ilgili ortaya atılan görüşler değişmemiştir.
- ☐ Derimiz solunuma yardımcı duyu organımızdır.
- ☐ Dilimiz sadece acı ve tatlı tatları algılar.
- ☐ Hareketli cisimlerden kontrolsüz olanlar tehlikelidir.

Matematik

1) Aşağıdaki işlemleri yapınız.

$$\begin{array}{r} 345 \\ + 425 \\ \hline \end{array}$$
$$\begin{array}{r} 700 \\ - 324 \\ \hline \end{array}$$
$$\begin{array}{r} 45 \\ \times 28 \\ \hline \end{array}$$
$$69 \overline{) 9}$$

2) Aşağıdaki karakterler dikdörtgenler prizması ile ilgili bazı bilgiler vermiştir. Hangisinin verdiği bilgi yanlıştır?

- A)  Tüm yüzleri dikdörtgensel bölgedir.
- B)  On iki ayrıtı, sekiz köşesi, altı yüzü vardır.
- C)  İki yüzü karesel, dört yüzü dikdörtgensel bölgedir.

3) 5 onluk + 7 birlik + 8 yüzlük

Sayı:

En yakın onluğu:

En yakın yüzlüğü:

Tek mi? Çift mi?:

Sayı değerleri toplamı:

Basamak değerleri toplamı:

4) Aşağıdaki saatlerin okunuşunu yazınız.



Öğleden önce:

.....

Öğleden sonra:

.....



Öğleden önce:

.....

Öğleden sonra:

.....

5)



1. Üç yüzeyi vardır.
2. Köşesi ve ayrıtı yoktur.
3. İki yüzeyi dairesel bölgedir.

Nebahat'in özelliklerini söylediği geometrik şekil aşağıdakilerden hangisidir?

- A) Üçgen prizma B) Koni
C) Silindir

- 6) Aşağıdaki boşlukları uygun sayılarla doldurunuz.
Koninin yüzeyi vardır.
Üçgen prizmanın yüzeyi vardır.
Kürenin yüzeyi vardır.
Silindirin yüzeyi vardır.

- 7) 4 kilogramı 28 TL olan portakalın ,5 kilogramı kaç TL'dir?

Şeker Gibi Soru

- 8) Bir manav 3 günde 400 kg armut satmaktadır.

1.gün 120 kg, 2.gün birinci günden 40 kg fazla armut sattığına göre 3. gün kaç kilogram armut satmıştır?

9)



Yukarıdaki paraların toplamı kaç TL'dir?

.....