



AD SOYAD:

MATEMATİK

1) Aşağıdaki bölme işlemlerini yapınız .

$$\begin{array}{r} 10 \overline{) 2} \\ \hline \end{array} \quad \begin{array}{r} 24 \overline{) 4} \\ \hline \end{array} \quad \begin{array}{r} 21 \overline{) 3} \\ \hline \end{array}$$

2) Aşağıdaki işlemleri yapınız .



$$\begin{array}{r} 25 \\ + 75 \\ \hline \end{array} \quad \begin{array}{r} 42 \\ - 29 \\ \hline \end{array} \quad \begin{array}{r} 32 \\ - \\ \hline 5 \end{array} \quad \begin{array}{r} \\ - 13 \\ \hline 28 \end{array}$$

$$\begin{array}{r} 5 \\ \times 9 \\ \hline \end{array} \quad \begin{array}{r} 7 \\ \times 3 \\ \hline \end{array} \quad \begin{array}{r} 8 \\ \times 4 \\ \hline \end{array}$$

3) Bir yumurtacı 39 yumurta daha satarsa toplam 80 yumurta satmış olacaktır. Yumurtacının başlangıçta sattığı yumurtaların sayısı kaçtır?

4)

$$\begin{array}{r} 20 \overline{) 5} \\ \hline \end{array}$$

Yukarıdaki bölme işleminde bölüm ile kalanın çarpımı kaçtır?

5) Aşağıdaki boşlukları uygun sayılarla tamamlayınız.

4 yarım =bütün eder.


16 çeyrek =bütün eder.

6 yarım =bütün eder.

3 bütün =çeyrek eder.

2 yarım =çeyrek eder.

6) Aşağıdaki saatlerin okunuşunu yazınız.

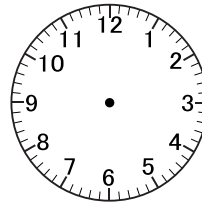




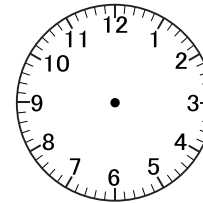




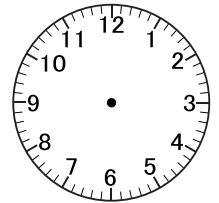
7) Aşağıdaki saatleri çiziniz.



08.45



02.15



09.30

8) Aşağıdaki dijital saatlerden hangisi öğleden sonra bir zamanı göstermektedir?



9) Aşağıdaki ifadeler doğru ise D, yanlış ise Y yazınız.

● () 1 yıl 12 aydır.

● () 1 ay 5 haftadır.

● () Bugün salı ise dün pazartesi.

● () 1 mevsim 5 ay sürer.

● () 1 gün 24 saattir.

TÜRKÇE

1) Aşağıdaki verilen sayı kadar sözcükten oluşan cümleler yazalım.

5

4

2)Aşağıdaki kelimelerin zıt anlamlarını yazınız.

güzel : _____ büyük: _____

uzak: _____ barış: _____

hızlı: _____ esir: _____

çukur : _____ ince : _____

alçak: _____ yüksek: _____

3) Aşağıdaki sözcük dizilerinden cümle olanları işaretleyiniz.

☐Fevziye bisiklet aldı.

☐Pazardan elma ,armut

☐Eren de mi bu sınıfa

☐Koştum

☐Köyden çilek getirdi.

☐Sevcan ne

3) Aşağıdaki parantez içindeki boşlukları uygun noktalama işaretleri ile tamamlayınız.

★ Yaşasın () Anneannem gelecek ()

★ Aycan () Oya ve Gözde gitti ()

★ Aydın ()ın nesi meşhur ()

★ Annem kek () reçel ve omlet yapmış ()

★ Olamaz () şemsiyemi evde unutmuşum ()

HAYAT BİLGİSİ

1)Aşağıdaki cümlelerden doğru olanların başına D ,yanlış olanların başına Y yazınız.

☐ Milli Marşı'mız Onuncu Yıl Marşı'dır.

☐ Bayrağımız ve İstiklal Marşı'mız bağımsızlık sembollerimizdendir.

☐ İstiklal Marşı'nı yazan Mustafa Kemal Atatürk'tür.

☐ Ülkemizin başkenti Ankara'dır.

☐ Atatürk 10 Kasım 1938'de Ankara'da vefat etmiştir.

☐ Bayrağımız rengini şehitlerimizin kanından almıştır.

☐ Mustafa Kemal babasını kaybettikten sonra kız kardeşi ve annesiyle köyde yaşayan dayısının yanına yerleştiler.

2)Atatürk 23 Nisan bayramını kimlere armağan etmiştir?

3) 29 Ekim'de hangi bayramı kutlarız?

4)Atatürk'ü Anma Gençlik ve Spor Bayramı ne zaman kutlanır?

Başarılar Canım:)